

الخطة الاثرائية

لرياضيات

KG1

ترم اول



A.S.H

الخطة الاثرانية للمستوى الاول (رياضيات) ترم اول

المحور	الفصل	النشاط الاثراني	ملاحظات
من اكون	الاول	<ul style="list-style-type: none"> • اكتب الاعداد من ١ الى ٤ • صل كل رقم بمدلوله • ارسم اشكال حسب العدد • ضع علامه اكبر او اصغر او تساوي • لون حسب العدد • اكتب من العدد ١ حتى العدد ٤ • صل 	
من اكون	الثاني	<ul style="list-style-type: none"> • اكتب الاعداد من ١ الى ٧ • صل • اختر (اطول من _ اكثر من) رتب تصاعدي • من الاقل عددا الى الاكثر عددا • صنف الاشياء حسب شكلها في مجموعه واحده • صنف الاشكال حسب لونها ارسم كره يمين • البننت وقطه على اليسار 	

الخطة الاثرانية للمستوى الاول (رياضيات) ترم اول

المحور	الفصل	النشاط الاثراني	ملاحظات
من اكون	الاول	<ul style="list-style-type: none"> • اكتب من ١ الى ١٠ • ارسم دائره اعلى المنضده وكره اسفلها • ارسم نقاط توضح الرقم • اكمل الاعداد حتى العدد ١٠ • صل 	
تعلم من حولي	الثاني	<ul style="list-style-type: none"> • صل • ارسم ٩ دوائر حمراء كبيره بنفس الحجم • ارسم ٧ مربعات زرقاء صغيره بنفس الحجم • ارسم ست مثلثات خضراء كبيره بنفس الحجم • ارسم ١٠ اشياء مختلفه في الشكل والحجم • اكمل النمط • ضع علامه اكبر من اصغر من تساوي 	

الخطة الاثرانية للمستوى الاول (رياضيات) ترم اول

المحور	الفصل	النشاط الاثرانى	ملاحظات
العالم من حولى	الاول	<ul style="list-style-type: none"> • اكمل بنفس التسلسل • اجمع • ضع علامه اكبر من او اصغر من او تساوي • اقرا ثم اجب • ضع دائره حول الاثقل • ارسم شيء طويل واخر قصير 	
العالم من حولى	الثانى	<ul style="list-style-type: none"> • حوط على العدد الاصغر • اطرح • ارسم شيء خفيف واخر ثقيل • ارسم شيء قصير واخر طويل 	

• اكتب الاعداد من ١ الى ٤

٤	٣	٢	١

• صل كل رقم بمدلوله




١



٢



٣



٤

• ارسم اشكال حسب العدد



٢



٣






١




٤

• ضع علامة < او > او =




• لون حسب العدد


٢



٤




١



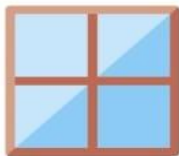
٣



• اكتب من العدد ١ حتى العدد ٤



• صل



المحور الأول

الفصل الثاني

• اكتب من ١ الى ٧

								١
								٢
								٣
								٤
								٥
								٦
								٧

• صل

اثنان	٤
خمسة	٧
ستة	٢
أربعة	٥
سبعة	٦

• اختر (أطول من - أقصر من)



.....




.....

• رتب تصاعدي من الاقل عددا الى الاكثر عددا



• صنف الاشياء حسب شكلها فى مجموعة واحدة :



• صنف الاشكال حسب لونها :



• ارسم كرة يمين البنت وقطة على اليسار :



• اكتب من ١ الى ١٠

١٠	٩	٨	٧	٦	٥	٤	٣	٢	١

• ارسم دائرة أعلى المنضدة وكرة أسفلها :



• ارسم نقاط توضح الرقم :



١٠

٩

٨


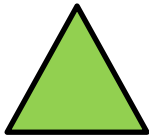
٧

٦

• اكمل الاعداد حتى العدد ١٠



• صل :



مستطيل

مربع


دائرة

مثلث

المحور الثاني

الفصل الرابع

• صل



اثنان

٨

خمسة

٧

تسعة

٢

ثمانية

٠

سبعة

٥

صفر

٩



• ارسم ٩ دوائر حمراء كبيرة بنفس الحجم

• ارسم ٧ مربعات زرقاء صغيرة بنفس الحجم


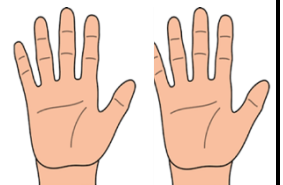

• ارسم ٦ مثلثات خضراء كبيرة بنفس الحجم

• ارسم ١٠ اشياء مختلفة ف الشكل واللون

• اكمل النمط



• ضع علامة < او > او =



المحور الثاني

الفصل الخامس

• اكمل بنفس التسلسل

..... , , , , , , ٨ , ٩ , ١٠

..... , , , , , , ٤ , ٣ , ٢

..... , , , , , , ٥ , ٦ , ٧ , ٨

..... , , , , , , ٥ , , , ٨ ,

• اجمع

$$= ٢ + ٥$$

$$= ١ + ٣$$

$$= ٣ + ٧$$

$$= ٤ + ٤$$

$$= ١ + ٤$$

$$= ١ + ٥$$

$$= ٣ + ٦$$

$$= ٢ + ٣$$

• ضع علامة < او > او =

٤	<input type="text"/>	١٠
٨	<input type="text"/>	٥
٣	<input type="text"/>	٩
٧	<input type="text"/>	٧
١	<input type="text"/>	٦
٤	<input type="text"/>	٢

اقرأ ثم أجب :

• أعطاك والدك ٤ جنيهاً ثم أعطتك والدتك ٣ جنيهاً ، فكم عدد

الجنيهاً معك؟

$$\boxed{} = \boxed{} + \boxed{}$$

• يوجد ٥ عصافير فوق الشجرة ويوجد ١ عصفور تحت الشجرة ، كم

عدد كل العصافير؟

$$\boxed{} = \boxed{} + \boxed{}$$

• ضع دائرة حول الاثقل



• ارسم شيء طويل واخر قصير

• حوطة على العدد الاصغر

٣ ٧

١ ٣

٧ ٢

٤ ١

٦ ٤

١ ٩

٠ ٢

١ ٨

١٠ ٢

• اطرء

$$= ٢ - ٥$$

$$= ١ - ٣$$

$$= ٣ - ٧$$

$$= ٤ - ٩$$

$$= ١ - ٤$$

$$= ١ - ٥$$

$$= ٣ - ٦$$

$$= ٢ - ٣$$

• ارسم شئ خفيف و آخر ثقيل

• ارسم شئ طويل و آخر قصير